

Cvičení z fyziky pro chemiky

Symbolem * je označen obtížnější příklad, který možná nezvládnete bez pomoci vyřešit, ale rozhodně se zamyslete nad interpretací uvedených výsledků.

Vlastní kmity

1. Částice koná lineární harmonický pohyb kolem bodu $x = 0\text{m}$. V čase $t = 0\text{s}$ má nulovou rychlost a její výchylka je $3.7 \cdot 10^{-3}\text{m}$. Je-li frekvence pohybu $f = 0.25\text{s}^{-1}$, najděte

- (a) periodu,
- (b) kruhovou frekvenci,
- (c) amplitudu,
- (d) výchylku a rychlost v libovolném čase t ,
- (e) amplitudu rychlosti a amplitudu zrychlení.

$$[(a) T=4\text{s}, (b) \omega = \frac{\pi}{2}\text{s}^{-1}, (c) A=3.7 \cdot 10^{-3}\text{m}, (d) x=3.7 \cdot 10^{-3} \cos \frac{\pi}{2}t \text{ m}, \\ (e) v_m=1.85\pi \cdot 10^{-3}\text{ms}^{-1}, a_m=9.25 \cdot 10^{-3} \cdot \pi^2 \text{ms}^{-2}.]$$

2. Dokažte, že zápisy $x_1 = A \sin(\omega t) + B \cos(\omega t)$ a $x_2 = C \sin(\omega t + \varphi)$ jsou ekvivalentní, vyjádřete C a φ pomocí A a B a také A a B pomocí C a φ . Návod: Užijte vztah $\sin(\alpha + \beta) = \sin(\alpha) \cos(\beta) + \cos(\alpha) \sin(\beta)$ a uvědomte si, že rovnost zápisů x_1 a x_2 musí platit nezávisle na čase.

$$[A = C \cos \varphi, B = C \sin \varphi, C = \sqrt{A^2 + B^2}, \text{tg} \varphi = \frac{B}{A}.]$$

3. Určete amplitudu a fázovou konstantu netlumeného harmonického pohybu po přímce. Hmotný bod měl v čase $t = 0\text{s}$ výchylku $x_0 = 5\text{cm}$ a rychlost $v_0 = 20 \text{cms}^{-1}$, jeho frekvence byla $f = 1\text{s}^{-1}$.

$$[A = 5, 92\text{cm}, \alpha = -32^\circ 30']$$

4. Napište pohybové rovnice a určete úhlovou frekvenci vlastních kmitů tělesa o hmotnosti m visícího na pružině o tuhosti k . Předpokládejte, že těleso koná harmonický kmitavý pohyb ve směru osy x .

$$[m \frac{d^2x}{dt^2} + kx = 0, \omega = \sqrt{\frac{k}{m}}]$$

5. * Napište pohybové rovnice a určete úhlovou frekvenci fyzického kyvadla (těleso o hmotnosti m otáčející se kolem osy neprocházející těžištěm). Tutéž úlohu řešte pro matematické kyvadlo (hmotný bod na nehmotném závěsu).

[fyzické kyvadlo $J \frac{d^2\varphi}{dt^2} + mdg \sin \varphi = 0$, kde J je moment setrvačnosti vzhledem k ose otáčení, d je vzdálenost osy otáčení od těžiště, g je tíhové zrychlení a φ je úhel určující výchylku z rovnovážné polohy. Uvažujeme-li malé kmity ($\sin \varphi \doteq \varphi$), je

úhlová frekvence $\omega = \sqrt{\frac{mgd}{J}}$. Uvažujeme-li o matematickém kyvadle jako

o speciálním případě fyzického kyvadla s momentem setrvačnosti $J = md^2$, je úhlová frekvence $\omega = \sqrt{\frac{g}{d}}$.]

6. V U-trubici je homogenní kapalina. Pomocí pístu umístěného v jednom rameni U-trubice posune kapalinové těleso o vzdálenost x . Ukažte, že po uvolnění pístu začne kapalina vykonávat jednoduché harmonické kmity a určete jejich periodu. Celková délka kapalinového sloupce v trubici je L .

$$[T = \pi \sqrt{\frac{2L}{g}}]$$

7. V čase $t = 0$ s je výchylka částice $x_0 = 4.3$ cm a její rychlost $v_0 = 3.2$ ms⁻¹. Hmotnost částice je $m=4$ kg a její celková energie je $E=79.5$ J. Napište vztah pro závislost výchylky částice na čase a vypočtěte dráhu částice za dobu 0.4s od začátku pohybu.

$$[x = 0.05 \cos \left(126.1t + \frac{\pi}{6} \right) m, s = 1.6m]$$

8. Určete periodu malých podélných kmitů tělesa o hmotnosti m v soustavě znázorněné na Obr. 1. Tuhosti nehmotných pružin jsou k_1 a k_2 , tření zanedbejte.

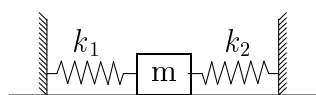
$$[T = 2\pi \sqrt{\frac{m}{k_1+k_2}}]$$

9. Dřevěný válcový kůl je na jednom konci zatížen olovem, takže může plavat ve svislé poloze (Obr. 2). Kůl uvedeme do kmitavého pohybu ve svislém směru. Ukažte, že se jedná o jednoduché harmonické kmity a určete jejich periodu. Neberte v úvahu, že dochází ke tlumení kmitů.

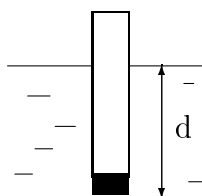
$$[T = 2\pi \sqrt{\frac{d}{g}}]$$

10. K nehmotné pružině o tuhosti $k = 50$ Nm⁻¹ je přivázána nit, na které visí závaží o hmotnosti 1kg (Obr. 3). O jakou vzdálenost lze posunout závaží směrem dolů, aby po jeho uvolnění vznikly kmity, v jejichž průběhu by bylo vlákno stále napjaté?

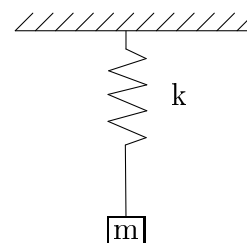
$$[x \leq \frac{mg}{k} = 19.6\text{cm}]$$



Obr. 1



Obr. 2



Obr. 3

11. * Homogenní tenká tyč o hmotnosti M a délce L je připevněna ke stropu tak, že se může volně otáčet bez tření kolem osy O (viz Obr. 4). Tyč je kromě toho připevněna ke stěně pomocí pružiny o tuhosti k . Určete periodu kmitů tyče. Návod: Postupujte obdobně jako při odvození periody kmitů fyzického kyvadla, k momentu tíhové síly přičtete moment síly pružné.

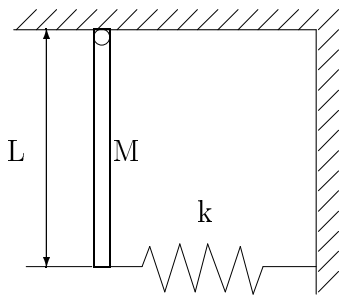
$$[T = 2\pi \sqrt{\frac{2}{3} \frac{ML}{Mg+2k}}]$$

12. Na vodorovné pružině zanedbatelné hmotnosti je připevněn tuhý válec o hmotnosti m , který se může valit bez klouzání po vodorovné rovině. Tuhost pružiny je $k = 3.0$ Nm⁻¹ (viz Obr. 5). Válec vychýlíme z rovnovážné polohy o $d = 0.25$ m a uvolníme jej.

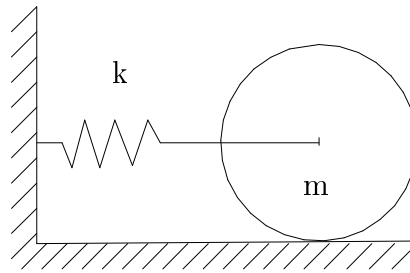
- (a) Vypočítejte kinetickou energii rotačního a translačního pohybu válce při průchodu rovnovážnou polohou.
- (b) * Ukažte, že střed hmotnosti válce koná jednoduchý harmonický pohyb s periodou $T = 2\pi\sqrt{\frac{3m}{2k}}$. [(a) $E_{tr}(0) = \frac{1}{3}kd^2 = 0.0625J$, $E_{rot}(0) = \frac{1}{6}kd^2 = 0.0313J$]

13. * Na miskou o hmotnosti M , zavěšenou na pružině s konstantní tuhostí k , dopadne z výšky h kulička o hmotnosti m a zůstane na misce ležet (viz Obr. 6). Tento systém začne vykonávat kmitavý pohyb. Najděte amplitudu kmitů soustavy.

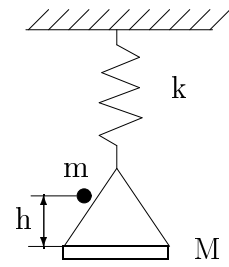
$$[A = \sqrt{\frac{m^2g^2}{K^2} + \frac{2m^2gh}{k(m+M)}}]$$



Obr. 4



Obr. 5



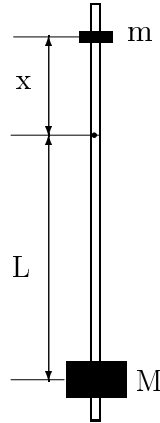
Obr. 6

14. * Kyvadlo metronomu je lehká tyčinka, na jejímž konci je ve vzdálenosti L od osy otáčení umístěno tělíčko o hmotnosti M . Na druhém konci kyvadla je ve vzdálenosti x od osy umístěno posuvné tělíčko o hmotnosti m , pomocí kterého lze měnit frekvenci kyvadla (viz Obr. 7). Najděte vztah pro kruhovou frekvenci metronomu za předpokladu, že hmotnosti tělísek M a m jsou bodové a hmotnost tyčinky je zanedbatelná.

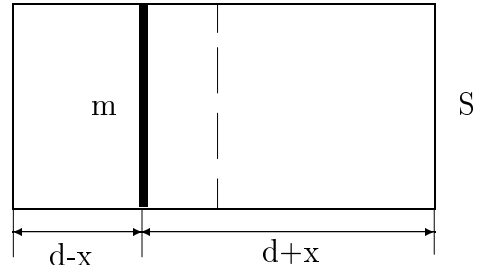
$$[\omega = \sqrt{\frac{g(ML-mx)}{ML^2+mx^2}}]$$

15. * V uzavřeném válci naplněném vzduchem je píst o hmotnosti m , který rozděluje válec na dvě stejné části. Tlak vzduchu v obou částech je p_0 . Píst nepatrně vychýlíme z rovnovážné polohy o vzdálenost x a potom uvolníme (viz Obr. 8). Píst začne vykonávat kmitavý pohyb. Vypočítejte periodu kmitů za předpokladu, že děj v plynu můžeme považovat za a) izotermický b) adiabatický. Poznámka: pokuste se odvodit alespoň pohybové rovnice a) $m\frac{d^2x}{dt^2} + Sp_0\left(\frac{d}{d-x} - \frac{d}{d+x}\right) = 0$, b) $m\frac{d^2x}{dt^2} + Sp_0\left(\left(\frac{d}{d-x}\right)^\kappa - \left(\frac{d}{d+x}\right)^\kappa\right) = 0$, kde κ je Poissonova konstanta z rovnice pro adiabatický děj, zbytek je otázkou vhodné matematické aproximace pro malé kmity.

$$[a) T = 2\pi\sqrt{\frac{md}{2p_0S}}, T = 2\pi\sqrt{\frac{md}{2\kappa p_0S}}]$$



Obr. 7



Obr. 8

Tlumené a nucené kmity

- * Odvoďte rovnice nuceného kmitání pro kuličku zavěšenou na pružině. Kulička je ponořena do kapaliny, a tedy tlumena. Předpokládejte, že odporová síla je tvaru $\vec{F}_{od} = -6\pi\eta r\vec{v}$ (Stokesův vztah) a vynucující síla je harmonická, $\vec{F}_v = F \sin \Omega t$. Určete frekvenci a amplitudu vlastních i vynucených kmitů. Pro jaké hodnoty parametrů soustavy dochází k rezonanci? Poznámka: výsledky tohoto příkladu využijte k řešení následujících úloh.

$$\left[\frac{d^2 x}{dt^2} + 2b \frac{dx}{dt} + \omega_0^2 x = g \left(1 - \frac{\rho_{kap}}{\rho_{kul}} \right) - \frac{F}{m} \sin \Omega t, \text{ kde } b = \frac{3\pi\eta r}{m}, \omega_0 = \sqrt{\frac{k}{m}}, \text{ frekvence} \right.$$

$$\left. \text{vlastních kmitů je } \omega = \sqrt{\omega_0^2 - b^2}, \text{ amplituda } Ae^{-bt}, \text{ frekvence vynucených kmitů je } \Omega, \text{ jejich amplituda je } A_v = \frac{\frac{F}{m}}{\sqrt{(\omega_0^2 - \Omega^2)^2 - 4b^2\Omega^2}}, \text{ k rezonanci dojde pro frekvenci} \right.$$

$$\left. \text{vynucující síly } \Omega_r = \sqrt{\omega_0^2 - 2b^2} \right]$$

- Při pozorování tlumeného harmonického pohybu bylo zjištěno, že po dvou po sobě následujících výchylkách na tutéž stranu se amplituda kmitů zmenšila o 0.6 a že doba tlumených kmitů je $T=0.5s$. Určete:
 - Konstantu útlumu a frekvenci netlumených kmitů, které by mohly probíhat za jinak stejných podmínek, tj. při $b=0$.
 - Činitele jakosti tohoto oscilátoru, který je definován jako $Q = \frac{\omega}{2b}$, kde $\omega = \frac{2\pi}{T} = \sqrt{\omega_0^2 - b^2}$.

$$[(a) b=1.83 \text{ s}^{-1}, f_0=2.02\text{s}^{-1}, (b) Q=3.43]$$

- Počáteční amplituda kmitavého pohybu kyvadla je $A_0 = 3\text{cm}$. Za dobu $t_1 = 10\text{s}$ je amplituda již jen $A_1 = 1\text{cm}$. Za jak dlouho bude amplituda $A_2 = 0.3\text{cm}$?

$$[t_2 = t_1 \frac{\ln A_0 - \ln A_2}{\ln A_0 - \ln A_1} = 20.96\text{s}]$$

4. Jaká je rezonanční amplituda a rezonanční frekvence hmotného bodu, který koná vynucené kmity, znáte-li tyto údaje: Hmotnost bodu je $m=0.1\text{kg}$, kruhová frekvence vlastních kmitů je $\omega_0=20\text{s}^{-1}$, koeficient útlumu $b = 3\text{s}^{-1}$ a amplituda vynucující síly $F_0 = 10\text{N}$. Návod: použijte výše uvedeného vztahu pro pro frekvenci rezonančních kmitů $\Omega_r = \sqrt{\omega_0^2 - 2b^2}$ a dosadte jej do vztahu pro amplitudu vynucených kmitů A_r .

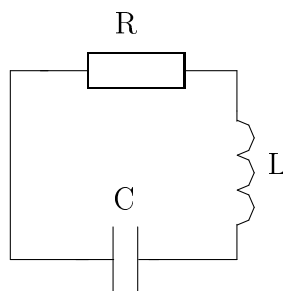
$$[A_r = 84.3\text{cm} \quad \omega_r = 19.54\text{s}^{-1}]$$

5. Těleso o hmotnosti $m=0.2\text{kg}$ koná vynucené harmonické kmity působením sinusově proměnné síly, jejíž amplituda je $F_0 = 2\text{N}$. Určete rezonanční kruhovou frekvenci ω_r a rezonanční amplitudu A_r , je-li doba vlastního kmitání tělesa $T_0 = \frac{\pi}{4}$ a koeficient útlumu $b = 4\text{s}^{-1}$.

$$[A_r = 0.18\text{m} \quad \omega_r = 5.7\text{s}^{-1}]$$

6. * Kondenzátor o kapacitě $C = 0.025\mu\text{F}$, který je nabit na potenciální rozdíl $U = 20\text{V}$, je vybíjen přes vodič o indukčnosti $L = 4\mu\text{H}$. Odpor obvodu je $R = 1\Omega$. Vypočtete kruhovou frekvenci vlastních kmitů obvodu.

$$[\omega = \sqrt{\frac{1}{LC} - \frac{R^2}{4L^2}} = 3.16 \cdot 10^6 \text{s}^{-1}]$$



Obr. 10

Skládání kmitů

1. * Odvoďte obecně vztah pro výslednou amplitudu a fázový posuv kmitání, které vznikne složením dvou stejnosměrných kmitů o stejné frekvenci, amplitudách A_1 a A_2 a fázích φ_1 a φ_2 . Návod: Postupujte obdobně jako v příkladu 2. z odstavce Vlastní kmity.

$$[A = \sqrt{A_1^2 + A_2^2 + 2A_1A_2 \cos(\varphi_2 - \varphi_1)}, \quad \text{tg} \varphi = \frac{A_1 \sin \varphi_1 + A_2 \sin \varphi_2}{A_1 \cos \varphi_1 + A_2 \cos \varphi_2}]$$

2. Určete amplitudu výsledného harmonického pohybu, který vznikne složením dvou stejnosměrných kmitů se stejnou periodou a amplitudami 3 a 5cm. Rozdíl jejich fází je 60° .

$$[A=7\text{cm}]$$

3. Jaký pohyb vznikne superpozicí dvou rovnoběžných harmonických kmitů se stejnými kruhovými frekvencemi ω , jsou-li amplitudy jednotlivých kmitů $A_1 = 1\text{cm}$ a $A_2 = 10\text{cm}$. Příslušné fázové konstanty jsou $\varphi_1 = 30^\circ$ a $\varphi_2 = 60^\circ$.

$$[A=10.8\text{cm}, \quad \text{tg} \varphi = 1.54, \quad \varphi = 57^\circ]$$

4. * Provedte superpozici dvou navzájem kolmých harmonických kmitů se stejnými periodami a amplitudami ($T_1 = T_2 = 0.1s$, $A_1 = A_2 = 2cm$). Uvažujte následující hodnoty počátečních fází:

(a) obecné hodnoty φ_1 a φ_2 , přitom $\varphi_1 \neq \varphi_2$.

(b) $\varphi_1 = \pm\varphi_2$.

(c) $\varphi_1 - \varphi_2 = \frac{\pi}{2}$.

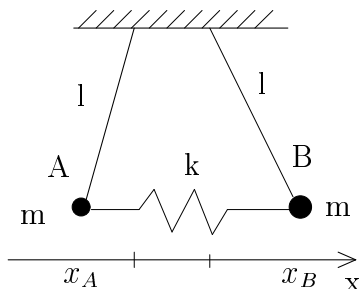
Návod: Vztahy pro výchylky podělte příslušnou amplitudou, funkce sinus pak rozložte podle vztahů pro $\sin(\alpha + \beta)$, obě rovnice umocněte na druhou a sečtěte.

[(a) Rovnice výsledné dráhy je rovnice elipsy $x^2 + y^2 - 2xy \cos(\varphi_1 - \varphi_2) = 4 \sin^2(\varphi_1 - \varphi_2)$. (b) Harmonický pohyb po přímce $y = \pm x$ s amplitudou $A = 4cm$ (c) Harmonický pohyb po kružnici o poloměru $R = 2cm$ $x^2 + y^2 = 4$.]

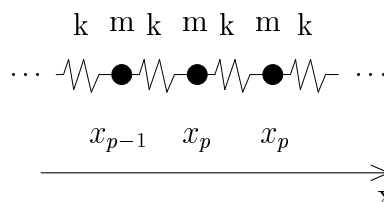
Oscilátory s vazbou

1. * Odvoďte vztah pro okamžitou výchylku p-té kuličky systému na Obrázku 14, určete vlastní frekvence systému N kuliček a počet těchto kmitových módů (kmity se konají podél osy x). Okrajová podmínka: nultá a N+1 kulička mají v libovolném čase nulovou výchylku. Návod: U tohoto a následujících příkladů postupujte obdobně jako u podobného příkladu řešeného na přednášce.

[pohybová rovnice $m \frac{d^2 x_p}{dt^2} = k(x_{p-1} + x_{p+1} - 2x_p)$, její řešení je tvaru $x_p = A \sin(p\Theta + \Phi) \sin(\omega t + \varphi)$, po aplikaci okrajových podmínek dostaneme pro výchylku $x_p = A \sin(p \frac{m\pi}{N+1}) \sin(\omega_m t + \varphi)$ a pro vlastní frekvence vztahy $\omega_m = 2\omega_0 \sin \frac{m\pi}{2(N+1)}$, $\omega_0 = \sqrt{\frac{k}{m}}$, těchto frekvencí je nejvýše N.]



Obr. 13



Obr. 14

2. * Napište pohybové rovnice pro kmity soustavy dvou spřažených kyvadel (viz Obrázek 13), určete kmitové módy soustavy.

$$\begin{aligned} m \frac{d^2 x_A}{dt^2} &= -\frac{mg}{l} x_A - k(x_A - x_B) \\ m \frac{d^2 x_B}{dt^2} &= -\frac{mg}{l} x_B - k(x_B - x_A), \end{aligned}$$

kde x_A (x_B) značí výchylku kuličky A (B) z její rovnovážné polohy. Vlastní kmitové módy jsou $\omega_0 = \sqrt{\frac{g}{l}}$, $\omega' = \sqrt{\left(\frac{g}{l}\right)^2 + 2\left(\frac{k}{m}\right)^2}$

3. * Homogenní struna délky 2.5m a hmotnosti 0.01kg je napjata silou 10N.

- (a) Najděte frekvenci jejího nejnižšího módu.
(b) Jestliže strunu vychýlíme příčně a v místě vzdáleném 0.5m od jednoho konce se jí dotkneme, jaká frekvence zní v tomto případě?

[pro výchylku struny platí $y(x, t) = A \sin\left(\frac{\omega_m x}{v}\right) \sin(\omega_m t)$, kde $\omega_m = m\omega_1$,
 $\omega_1 = \pi \sqrt{\frac{Fl}{m}}$, tedy (a) $f_1 = 10\text{Hz}$, (b) $n=5m$, tedy jsou povoleny frekvence
50Hz, 100 Hz, 150 Hz,...]

Některé příklady jsou převzaty z publikací

- Janča J., Kapička V., Kučírek J., Stejskalová V., *Cvičení z obecné fyziky III a IV*, SPN Praha 1986
- Máca B., *Cvičení z fyziky pro nefyzikální obory*, SPN Praha 1988